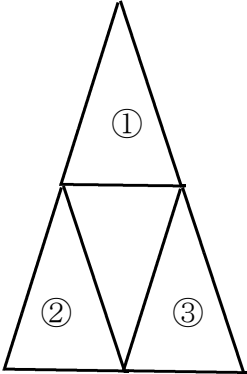


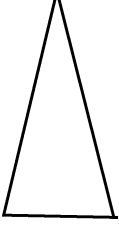
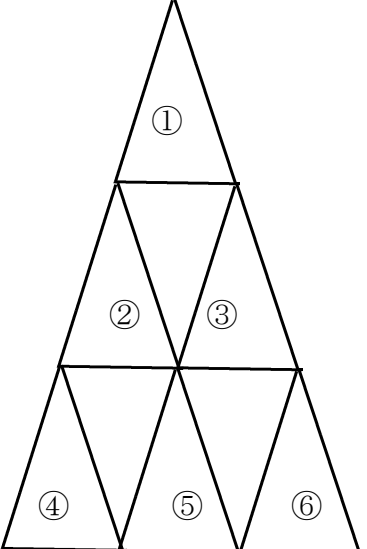


校長先生問題にチャレンジ 4月

次のように三角形を3こ並べると三角形は全部でいくつですか。



 が 3こ
 が 1こ
 が 1こ
 ぜんぶで 5こ。



では三角形を下にあと3こつけたら、三角形はぜんぶでなんこでしょう。答えと説明をかいてください。

答え こ

説明 (せつめい)

年 組 名前

※ 簡単だよという人は、あと1段（5こ）つけて何個になるか考えましょう。うらへ。